

Total No. of Questions : 150

Total No. of Marks : 150

Duration of the Test : 2 Hours 30 Minutes

Question Paper
Booklet Code

E

V24-79 (U)

APRJC - CET - 2024

MPC/EET

English / Urdu Medium

HALL TICKET NUMBER

--	--	--	--	--	--	--	--	--	--

INSTRUCTIONS

1. Write your hall ticket number in the boxes provided on the front page of the Question paper booklet immediately after receiving it.
2. Write your Question paper code on your OMR answer sheet and bubble the corresponding circle.
3. Don't write anything on the question paper booklet. However, for any rough work, you can make use the space provided at the end of the question paper booklet.
4. For each question, choose the best answer from the four choices given. Bubble the circle, which corresponds to the best answer for that question, with Blue/ Black ball point pen only.
5. Do **not** overwrite on the OMR answer sheet. Please read the detailed instructions listed on side-1 of the OMR answer sheet.
6. Each question carries **ONE** mark. There will be **no** negative marks for wrong answers.
7. The candidate is allowed to take away the question paper booklet along with him after the completion of the Test.
8. Before leaving the examination hall, the candidate must handover the OMR answer sheet to the invigilator.

This Booklet consists of 29 Pages for 150 Questions + 02 Pages of Rough Work + 01 Title Page i.e. Total 32 Pages.

SEAL

SPACE FOR ROUGH WORK

PART - I : GENERAL ENGLISH

1. What made the people think the Potter was humble?
(1) He bowed to all the people
(2) He walked to the palace without climbing the horse
(3) He obeyed the tiger
(4) He liked to be the general of the Army
-
2. Will you try out this problem for me? (Identify the expression)
(1) giving permission (2) seeking permission
(3) seeking help (4) suggestion
-
3. Mrs. Slater was a Vigorous woman with straight talking.
What is the part of speech of the underlined word?
(1) Noun (2) Adverb
(3) Preposition (4) Adjective
-
4. What was the transformation brought by Wangari Maathai in women?
(1) She taught them to collect wood in the forest.
(2) She provided all the basic needs for them.
(3) She made the women feel confident and independent.
(4) She involved them in war and conflict.
-
5. What did Roberge find in ray when he refused to spoil the reputation of the culprit?
(1) humane concern (2) aggressive approach
(3) intimidating (4) hatred and discontent
-
6. When Gopal _____ (reach) the temple, it _____ (be) filled with devotees.
(1) reached, is (2) reached, had been
(3) reach, was (4) reached, be
-
7. Ganesh plays cricket. He plays chess too.
(Combine the sentences with 'not only-but also')
(1) Ganesh plays not only cricket but also he plays chess.
(2) Ganesh plays not only cricket but chess also.
(3) Ganesh plays not only cricket but also chess.
(4) Ganesh likes cricket not only, but also he plays chess.
-

-
8. Which are the 'Alliteratives' among the following.
- | | |
|-------------------|--------------|
| a) easy-peasy | b) mish-mash |
| c) helter-skelter | d) ting-tong |
- (1) (a), (b), (d) (2) (b), (c), (d) (3) (b) and (d) (4) (c) and (d)
-
9. Why was the young teacher summoned by Lakshmana Sastry?
- (1) The young teacher was new to school.
(2) Because he wanted to see the young teacher.
(3) Because the young teacher tried to poison the minds of children on religious differences.
(4) Because the young teacher did not have accommodation in the village.
-
10. How do we start a letter in 'A LETTER TO A FRIEND'?
- (1) Signature (2) Subscription (3) Salutation (4) Station and date
-
11. You keep this money. It may be a help for you.
(Combine using 'if')
- (1) If you keep this money, it may be a help for you.
(2) You keep this money, if it may be a help for you.
(3) If you keep this money, it may not help you.
(4) If you help me, keep this money.
-
12. Where can I get a few stationery items? (Change into Polite request)
- (1) Where is the stationery shop?
(2) Please give us some stationery items.
(3) Could you please let me know where I can get a few stationery items?
(4) Get me a few stationery items.
-
13. Which of the following have a concluding remarks in creative expression?
- | | |
|------------------|-------------------|
| (1) Diary entry | (2) A speech |
| (3) Conversation | (4) All the above |
-
14. Identify the correct sentence.
- (1) There isn't enough food for all the invitees.
(2) There isn't food enough for all the invitees.
(3) There is food for all the enough invitees.
(4) There is enough food for all the enough invitees.
-
15. In which of the following letters, is the subject specifically mentioned?
- | | |
|----------------------|----------------------|
| (1) Letter to friend | (2) Letter to mother |
| (3) Letter to uncle | (4) Complaint letter |
-

16. A biographical sketch is _____
 (1) the life history of one self.
 (2) the life history of others.
 (3) the history of great kings.
 (4) the life history of assassinated personalities.
-
17. Mrs. Jordan is a _____ woman. (Choose a right word that fits to Mrs. Jordan's character)
 (1) complacent (2) greedy (3) mild and sober (4) (1) and (2)
-
18. What was the threat to Sunday Nana's village?
 (1) children and chickens (2) poisonous chemical drums
 (3) skull and cross bones (4) the chief
-
19. Which of the sentences given below is defining relative clause?
 (1) Joy, who could not get a job, felt depressed.
 (2) The man who was selling balloons was very old and weak.
 (3) Rajani who lives next door, is a TV artist.
 (4) Who is the world famous artist?
-
20. Identify the sentence that is in Present Perfect tense.
 (1) Rupa has passed the test recently.
 (2) They had changed the residence address.
 (3) Gowri delivered a wonderful speech.
 (4) Children are making noise in the class.

Question No. 21 to 25 : Read the following passage and answer the questions.

There was a small village called Sonam. There was a young girl named Ema. Ema loved to explore the meadows and woods around her home. Everyday, she would discover new and exciting things in nature.

One Sunny morning, while Ema was wandering near a stream, she spotted a glimmering stone. It was unlike any stone she had seen before, and it filled her with wonder. She decided to show it to her grandparents who were wise and know about precious gems.

To Ema's surprise, his grandparents revealed that the stone was a rare and valuable gemstone called a sapphire. Ema's heart was filled with joy, and she learned that sometimes, the most precious treasures can be found in the simplest places.

21. What did Ema discover while wandering near a stream?
 (1) a village (2) meadows
 (3) nature (4) glimmering stone

-
22. Who revealed the identity of the glimmering stone to Ema?
(1) grandparents (2) parents (3) neighbours (4) friends
-
23. What did Ema find near the stream?
(1) A sapphire (2) A pearl (3) A seashell (4) A pebble
-
24. What did the grandparents reveal about the stone?
(1) It was a rare stone. (2) It was a valuable stone.
(3) It was a gem stone. (4) All the above.
-
25. Which word in the passage means 'to disclose'?.
(1) reveal (2) joy (3) treasure (4) precious
-
26. What does Lincoln's life teach us in the lesson
'Every success story is also a story of failures'
(1) Success can be achieved only at 52.
(2) To succeed in life is very difficult.
(3) A relentless hard work can give success.
(4) Failure is not a stepping stone to success.
-
27. Which among the following is an Advice?
(1) You should not wear helmet while driving.
(2) You should consult a doctor for your ill health.
(3) Come to my place for entertainment.
(4) We should go to school late, shouldn't we?
-
28. The crops grew well this year. We are happy with profits.
(Combine the sentences using 'since')
(1) Since we are happy with profits, the crops this year grew well.
(2) Since the crops grew well this year, we are happy with profits.
(3) The crops since this year grew well, we h are happy this year.
(4) The crops this year grew well, we are happy since with profits.
-
29. "I am sorry, I cannot go with you". (Identify the expression)
(1) Seeking permission (2) Refusing permission
(3) Expressing inability (4) Expressing fear
-

-
30. Why did the house wife in the lesson 'What is My Name' forget her name?
- (1) Because she made scrubbing and swabbing as the chief mission in her life.
 - (2) Because she became busy with her office work.
 - (3) Because she lost her memory.
 - (4) Because her husband didn't like her name.
-

31. A man who loves mankind is _____.
- (1) Superman
 - (2) Philanthropist
 - (3) Physicist
 - (4) Fatalist
-

32. Fill in the blank with an indefinite pronoun.
- _____ is perfect in this world.
- (1) She
 - (2) No one
 - (3) Myself
 - (4) He
-

33. Change the Voice.
- Guru started a new business.
- (1) A new business was started by Guru.
 - (2) A new business has been started by Guru.
 - (3) Guru's new business was started.
 - (4) A new business is being started by Guru.
-

34. Use the right Prepositional Phrases.
- _____ bus strike, I will drop my trip to Mysore.
- (1) In spite of
 - (2) Instead of
 - (3) In case of
 - (4) According to
-

35. Ray was an aloof and intimidating person for the outsiders.
(Identify the synonym of the underlined)
- (1) frightening
 - (2) encouraging
 - (3) intolerate
 - (4) intellectual
-

36. In the poem 'A plea for India', what was the central theme?
- (1) Unending violence
 - (2) Riots
 - (3) Proud and Confident
 - (4) Unity
-

37. He _____ (give) an entrance test before he _____ (join) Air force.

- (1) had give, entered (2) gave, enter
(3) had given, entered (4) given and entered

38. Savitri was awarded the title 'Mahanati' for her _____.

- (1) good number of movies
(2) for her successful direction
(3) for her humanity and generosity
(4) for her unbeatable talent

39. What was the father's urge to his son in 'Once Upon A Time'?

- (1) Father wants to shake hands with friends.
(2) Father wants to relearn how to laugh.
(3) Father wants to change faces according to the situation.
(4) None of the above.

40. Which is NOT a correct statement about Abel Merry weather?

- (1) Abel Merry weather stayed some days with Amelia and a part of time with Elizabeth.
(2) Abel Merry weather announced his marriage with John Shorrocks.
(3) Abel Merry weather was dead.
(4) Abel Merry weather wanted to change his will.

41. Veena is fond _____ music.

- (1) to (2) of (3) by (4) with

42. I haven't got _____ apples in my basket.

- (1) some (2) each (3) any (4) every

43. The Government has declared emergency. (Change the voice)

- (1) Emergency has been declared by the Government.
(2) Emergency is declared by the Government.
(3) Emergency is being declared by the Government.
(4) Emergency was declared by the Government.

-
44. Some of the students scored low marks in the Exams; _____, the teacher arranged a series of remedial classes.
- (1) so that (2) because
(3) in spite of (4) consequently
-
45. Who influenced Kalam in his childhood that changed his future?
- (1) Ramanatha Sastry (2) Siva Subramania Iyer
(3) Young teacher (4) Kalam's father
-
46. Narayana Murthy was _____ by nature.
- (1) selfish (2) malicious
(3) introvert (4) timid
-
47. What does the poet wish to convey through the poem 'Or Will the Dreamer Wake?'
- (1) the desire to wake up the human being.
(2) the people's reluctance towards the protection of animal world.
(3) the need to stop the extinction of animals.
(4) all the above
-
48. What stopped the narrator from carrying his luggage?
- (1) the narrators education
(2) the narrators white collar job
(3) the narrators laziness
(4) (1) and (2)
-
49. What is the one-word substitute for 'A hand written document'?
- (1) manuscript (2) mandocs
(3) news item (4) monologue
-
50. The accident sadly resulted _____ the death of a man.
- (1) by (2) to
(3) in (4) into
-

PART - II : MATHEMATICS

51. The solution of the equation $\log_7 \left(\log_4 (x^2) \right) = 0$ is

مسوات کا حل $\log_7 \left(\log_4 (x^2) \right) = 0$

- (1) $x = 1$ (2) $x = \pm 2$ (3) $x = 4$ (4) $x = \pm 7$

52. If $\log x^2 y^2 = a$ and $\log \frac{x}{y} = b$ then $\frac{\log x}{\log y} =$

اگر $\log x^2 y^2 = a$ اور $\log \frac{x}{y} = b$ تب $\frac{\log x}{\log y} =$

- (1) $\frac{a-3b}{a+2b}$ (2) $\frac{a+3b}{a-2b}$
(3) $\frac{a+2b}{a-2b}$ (4) $\frac{a-2b}{a+3b}$

53. Which of the following is an irrational number?

مندرجہ ذیل میں کون سا عدد غیر ناطق ہے۔

- (1) $\frac{22}{7}$ (2) $2.3\bar{5}$ (3) π (4) 3.1416

54. If $p = 2 \times 4 \times 6 \times \dots \times 20$ and $Q = 1 \times 3 \times 5 \times \dots \times 19$ then the HCF of P and Q is

اگر $p = 2 \times 4 \times 6 \times \dots \times 20$ اور $Q = 1 \times 3 \times 5 \times \dots \times 19$ تب P اور Q کا ا۔م۔۔

- (1) $3^3 \cdot 5 \cdot 7$ (2) $3^4 \cdot 5$ (3) $3^4 \cdot 5^2 \cdot 7$ (4) $3^3 \cdot 5^2$

55. Which of the following is true, if $A = \{1, 2, \{3, 4\}, \{5\}\}$?

اگر $A = \{1, 2, \{3, 4\}, \{5\}\}$ ہو تو مندرجہ ذیل میں کون سا صادق ہے۔

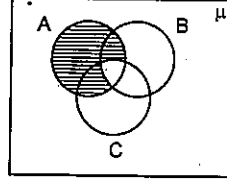
- (1) $\{3, 4\} \subset A$ (2) $3 \in A$
(3) $n(A) = 5$ (4) $\{5\} \in A$

56. Match the following.

جوڑ گائیے:

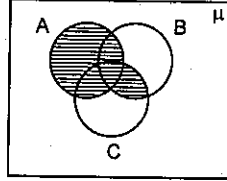
p) $A - (B \cup C)$

a)



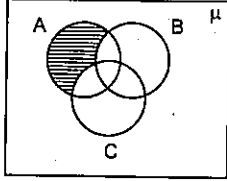
q) $(A - B) \cap (A - C)$

b)



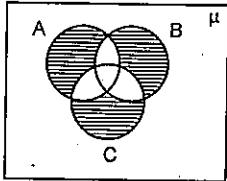
r) $A - (B \cap C)$

c)



s) $(A - B) \cup (A - C)$

d)



(1) $p \rightarrow a, q \rightarrow b, r \rightarrow c, s \rightarrow d$

(2) $p \rightarrow a, q \rightarrow b, r \rightarrow d, s \rightarrow c$

(3) $p \rightarrow c, q \rightarrow c, r \rightarrow a, s \rightarrow a$

(4) $p \rightarrow a, q \rightarrow d, r \rightarrow c, s \rightarrow b$

57. Statement I : $A = \{x : x \in \mathbb{Z} \text{ and } x < 5\}$ is a finite set.

Statement II : $B = \{x : x \in \mathbb{N} \text{ and } x < 1\}$ is a null set.

Choose the correct answer.

(1) I and II both are true.

(2) I and II both are false.

(3) I is true, II is false.

(4) I is false, II is true

بیان I : $A = \{x : x \in \mathbb{Z} \text{ اور } x < 5\}$ ایک تنہا ہی سیٹ ہے۔

بیان II : $B = \{x : x \in \mathbb{N} \text{ اور } x < 1\}$ ایک خالی سیٹ ہے۔

(1) I اور II دونوں کاذب ہیں۔

(1) I اور II دونوں صادق ہیں

(2) I کاذب ہے اور II صادق

(3) I صادق ہے اور II کاذب ہے

58. If $n(A) = 15$, $n(B) = 13$ and $n(A \cap B) = 10$ then $n[(A \cup B) - (A \cap B)] =$ _____

$n[(A \cup B) - (A \cap B)] =$ _____ تب $n(A \cap B) = 10$ اور $n(B) = 13$, $n(A) = 15$ اگر

- (1) 18 (2) 12 (3) 10 (4) 8

59. If α , β are the zeroes of the polynomial $p(x) = x^2 + 3x - 4$. Then find a quadratic polynomial whose zeroes are α^2 and β^2 .

اگر α اور β کثیررکتی $p(x) = x^2 + 3x - 4$ کے صفر ہیں تب ایک دو درجی کثیررکتی معلوم کیجئے جس کے صفر α^2 اور β^2 ہوں۔

- (1) $2x^2 - 4x + 7$ (2) $x^2 - 3x + 7$ (3) $x^2 - 17x + 16$ (4) $x^2 - 16x + 17$

60. If α , β , γ are the zeroes of $ax^3 + bx^2 + cx + d$. Then match the following.

اگر $ax^3 + bx^2 + cx + d$ کے صفر α , β اور γ ہوں تب حسب ذیل کے جوڑا گاؤ۔

p) $\frac{1}{\alpha} + \frac{1}{\beta} + \frac{1}{\gamma} =$

a) $-\frac{a}{d}$

q) $\alpha^2 + \beta^2 + \gamma^2 =$

b) $-\frac{c}{d}$

r) $\frac{1}{\alpha\beta} + \frac{1}{\beta\gamma} + \frac{1}{\gamma\alpha} =$

c) $\frac{b}{d}$

s) $\frac{1}{\alpha} \cdot \frac{1}{\beta} \cdot \frac{1}{\gamma} =$

d) $\frac{b^2 - 2ac}{a^2}$

(1) $p \rightarrow b, q \rightarrow d, r \rightarrow c, s \rightarrow a$

(2) $p \rightarrow a, q \rightarrow b, r \rightarrow c, s \rightarrow d$

(3) $p \rightarrow c, q \rightarrow a, r \rightarrow d, s \rightarrow b$

(4) $p \rightarrow d, q \rightarrow c, r \rightarrow a, s \rightarrow b$

61. If one of the zeroes of $x^3 + ax^2 + bx + c$ is -1 then the product of other two zeroes may be _____

اگر $x^3 + ax^2 + bx + c$ کا ایک صفر -1 ہو تب باقی دو صفروں کا حاصل ضرب _____ ہو سکتا ہے۔

- (1) $b - a + 1$ (2) $b - a - 1$ (3) $a - b + 1$ (4) $a - b - 1$

62. If the sum of the roots of the equation $\frac{1}{x+a} + \frac{1}{x+b} = \frac{1}{c}$ is zero, then the product of the roots of the equation.

مساوات $\frac{1}{x+a} + \frac{1}{x+b} = \frac{1}{c}$ کے ریشوں کا مجموعہ صفر ہو تب ان ریشوں کا حاصل ضرب

(1) $\frac{a^2 + b^2}{2}$

(2) $\frac{(a^2 + b^2)}{2}$

(3) $\frac{ab}{2}$

(4) $\frac{(a+b)^2}{2}$

63. For what value of k , do the equations $3(k-1)x + 4y = 24$ and $15x + 20y = 8(k+13)$ have infinite solutions?

'k' کی کس قدر کیلئے مساوات $3(k-1)x + 4y = 24$ اور $15x + 20y = 8(k+13)$ کے لامتناہی حل ہوتے ہیں۔

- (1) 1 (2) 2 (3) 3 (4) 4

64. If an ordered pair satisfying the equations $2x - 3y = 18$ and $4x - y = 16$ also satisfies the equation $5x - py - 23 = 0$ then the value of 'p' = _____

ایک مراتب جوڑا (Ordered Pair) مساوات $2x - 3y = 18$ اور $4x - y = 16$ کو مطمئن کرتا ہے۔ وہی مراتب جوڑا

- $5x - py - 23 = 0$ کو بھی مطمئن کرے تب 'p' کی قدر _____
- (1) 1 (2) 2 (3) -1 (4) -2

65. Value of 'x' from the equations $2^{x+y} = 2^{x-y} = \sqrt{32}$.

مساوات $2^{x+y} = 2^{x-y} = \sqrt{32}$ سے 'x' کی قدر

- (1) 0 (2) $\frac{5}{2}$ (3) $\frac{1}{2}$ (4) $\frac{3}{4}$

66. Assertion : The pair of equations $y = 0$ and $y = -8$ has no common solution.

Reason : The line $y = mx$, ($m \in \mathbb{R}$) is passing through the origin.

Now, choose the correct answer.

- (1) Both Assertion and Reason are true and Reason supports the Assertion.
(2) Both Assertion and Reason are true, but Reason does not supports the Assertion.
(3) Assertion is true, but Reason is false.
(4) Assertion is false, but Reason is true.

ادعا : مساوات کی جوڑی $y = 0$ اور $y = -8$ کا کوئی مشترک حل نہیں ہے۔

وجہ : خط $y = mx$, ($m \in \mathbb{R}$) مبدا سے گزرتی ہے۔

مندرجہ ذیل سے صحیح جواب کا انتخاب کیجئے۔

- (1) دونوں ادعا اور وجہ صادق ہیں اور وجہ ادعا کی تائید کرتی ہے۔
(2) دونوں ادعا اور وجہ صادق ہیں مگر وجہ ادعا کی تائید نہیں کرتی ہے۔
(3) ادعا صادق ہے اور وجہ کاذب
(4) ادعا کاذب ہے اور وجہ صادق

67. If $A = \tan 21^\circ \cdot \tan 19^\circ$, $B = 2 \cot 71^\circ \cdot \cot 69^\circ$ then

اگر $B = 2 \cot 71^\circ \cdot \cot 69^\circ$ ، $A = \tan 21^\circ \cdot \tan 19^\circ$ تب

- (1) $2A = B$ (2) $2A = 3B$ (3) $A = 2B$ (4) $A = B$

68. $\sin \theta = 0.908 \Rightarrow \cos(90 - \theta) =$ _____

- (1) 0.908 (2) 0.092 (3) 59.092 (4) 1

69. If $x = 2\sin^2 \theta$, $y = 2\cos^2 \theta + 1$ then which of the following is true?

اگر $x = 2\sin^2 \theta$ ، $y = 2\cos^2 \theta + 1$ تب حسب ذیل میں سے کون صادق ہے۔

- (1) $x - y = 1$ (2) $x + y = 2$ (3) $x + y = 3$ (4) $x^2 + y^2 = 3$

70. If $\sqrt{-4 + \sqrt{8 + 16\operatorname{cosec}^4 \theta + \sin^4 \theta}} = A \operatorname{cosec} \theta + B \sin \theta$ then the value of $\frac{A}{B} =$ _____
(here $0^\circ < \theta < 90^\circ$).

اگر $\sqrt{-4 + \sqrt{8 + 16\operatorname{cosec}^4 \theta + \sin^4 \theta}} = A \operatorname{cosec} \theta + B \sin \theta$ تب $\frac{A}{B}$ کی قدر _____ یہاں ($0^\circ < \theta < 90^\circ$)

- (1) -1 (2) 2 (3) -2 (4) 1

71. $\cos^2 2^\circ + \cos^2 4^\circ + \cos^2 6^\circ + \dots + \cos^2 90^\circ =$ _____

- (1) 23 (2) 22 (3) 1 (4) 0

72. If $\cos \alpha = \frac{1}{2}$ and $\sin \beta = \frac{1}{2}$ then the value of $\alpha + \beta =$

($0^\circ \leq \alpha \leq 90^\circ$, $0^\circ \leq \beta \leq 90^\circ$)

اگر $\cos \alpha = \frac{1}{2}$ اور $\sin \beta = \frac{1}{2}$ تب $\alpha + \beta$ کی قدر جہاں ($0^\circ \leq \alpha \leq 90^\circ$, $0^\circ \leq \beta \leq 90^\circ$)

- (1) 60° (2) 90° (3) 45° (4) 30°

73. If $x = \sqrt{\frac{1 - \cos \theta}{1 + \cos \theta}}$ then $\frac{2x}{1 - x^2} =$

اگر $x = \sqrt{\frac{1 - \cos \theta}{1 + \cos \theta}}$ تب $\frac{2x}{1 - x^2} =$

- (1) $\sin \theta$ (2) $\cos \theta$ (3) $\cot \theta$ (4) $\tan \theta$

74. Solve $x = \frac{1}{2 - \frac{1}{2 - \frac{1}{2 - x}}}$; $x \neq 2$

حل کیجئے: $x = \frac{1}{2 - \frac{1}{2 - \frac{1}{2 - x}}}$; $x \neq 2$

- (1) 4 (2) -3 (3) -2 (4) 1

75. If $\sin \alpha$ and $\cos \alpha$ are the roots of the equation $ax^2 + bx + c = 0$ then $b^2 =$ _____

اگر $\sin \alpha$ اور $\cos \alpha$ مساوات $ax^2 + bx + c = 0$ کے ریٹے ہیں تب $b^2 =$ _____

- (1) $c^2 + 2ac$ (2) $a^2 + ac$ (3) $a^2 + 2ac$ (4) $c^2 + ac$

76. Find the quadratic equation, if $x = \sqrt{5 + \sqrt{5 + \sqrt{5 + \dots \infty}}}$ and x is a real number.

'x' ایک حقیقی عدد ہے اور $x = \sqrt{5 + \sqrt{5 + \sqrt{5 + \dots \infty}}}$ تو ایک دو درجی مساوات معلوم کیجئے۔

- (1) $x^2 - x - 5 = 0$ (2) $x^2 + x - 5 = 0$
(3) $x^2 - x + 5 = 0$ (4) $x^2 + x + 5 = 0$

77. The values of 'k' for which the roots of quadratic equation $x^2 + 4x + k = 0$ are real.

'k' کے کن قدروں کے لئے دو درجی مساوات $x^2 + 4x + k = 0$ کے ریٹے حقیقی ہوتے ہیں۔

- (1) $k \geq 4$ (2) $k \leq 4$ (3) $k \geq -4$ (4) $k \leq -4$

78. The pole of 9 m high casts a shadow $3\sqrt{3}$ m long on the ground, then the Sun's elevation is _____

9 میٹر لمبا ایک کھمباز مین پر $3\sqrt{3}$ میٹر لمبا سایہ بناتا ہے تب سورج سے زاویہ فراز _____

- (1) 60° (2) 45° (3) 30° (4) 90°

79. How many multiples of 5 are there in between 33 and 372?

اعداد 33 اور 372 کے درمیان 5 کے کتنے اضغاف ہیں؟

- (1) 66 (2) 63 (3) 68 (4) 67

80. One of the values of 'x' which satisfies the equation $\sqrt{\frac{2x}{3-x}} - \sqrt{\frac{3-x}{2x}} = \frac{3}{2}$
(Where $x \neq 3$ and $x \neq 0$).

_____ مساوات $\sqrt{\frac{2x}{3-x}} - \sqrt{\frac{3-x}{2x}} = \frac{3}{2}$ کو مطمئن کرنے والی 'x' کی ایک قدر
(جہاں $x \neq 3$ اور $x \neq 0$)

- (1) 1 (2) 2 (3) -3 (4) 4

81. Find the sum of the series

مندرجہ ذیل سلسلہ کا مجموعہ معلوم کیجئے۔

$$1 + (1 + 2) + (1 + 2 + 3) + (1 + 2 + 3 + 4) + \dots + (1 + 2 + 3 + \dots + 20)$$

- (1) 1470 (2) 1540 (3) 1610 (4) 1370

82. If $\frac{1+3+5+\dots \text{ upto } n \text{ terms}}{2+5+8+\dots \text{ upto } 8 \text{ terms}} = 9$ then the value of 'n' is _____

_____ اگر $\frac{1+3+5+\dots \text{ تک } n \text{ ارکان تک}}{2+5+8+\dots \text{ تک } 8 \text{ ارکان تک}} = 9$ تب 'n' کی قدر

- (1) 30 (2) 28 (3) 25 (4) 35

83. If the m^{th} term of an A.P. is $\frac{1}{n}$ and n^{th} term is $\frac{1}{m}$ then the $(mn)^{\text{th}}$ term is _____

_____ اگر ایک A.P. کا 'm' واں رکن $\frac{1}{n}$ اور 'n' واں رکن $\frac{1}{m}$ ہو تو (mn) واں رکن

- (1) 0 (2) 1 (3) $\frac{1}{m} + \frac{1}{n}$ (4) $\pm(m+n)$

84. Find the slope of the line joining the points (\log_2^8, \log_3^{27}) and $(\log_2^{16}, \log_3^{81})$.

_____ نقاط (\log_2^8, \log_3^{27}) اور $(\log_2^{16}, \log_3^{81})$ کو ملانے والی خط کی ڈھال

- (1) log2 (2) 1 (3) 2 (4) 0

85. Find the length of the longest side of the triangle formed by the line $3x + 4y = 12$ with the co-ordinate axes.

_____ $3x + 4y = 12$ اور کوآرڈینیٹ محوروں سے بننے والی مثلث کا سب سے بڑا ضلع کا طول

- (1) 9 (2) 16 (3) 5 (4) 7

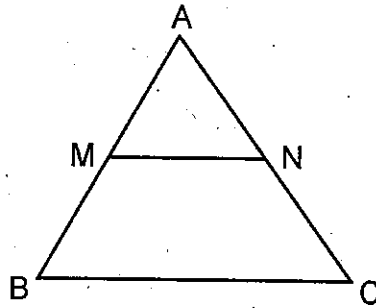
86. If (2, 4) is the mid-point of the line-segment joining (6, 3) and (a, 5) then the value of a is _____

- (1) 2 (2) 4 (3) -4 (4) -2

نقاط (6, 3) اور (a, 5) کو ملانے والی قطعہ خط کا وسطی نقطہ (2, 4) ہو تو 'a' کی قدر _____

87. In ΔABC , $MN \parallel BC$, the area of quadrilateral $MBCN = 130$ sq.cm. If $AN : NC = 4 : 5$ then the area of ΔMAN is _____ sq.cm.

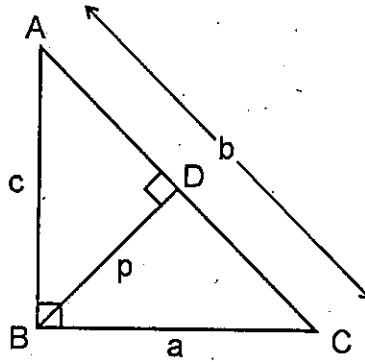
ΔABC میں، $MN \parallel BC$ اور چار ضلعی $MBCN$ کا رقبہ 130 مربع سمر۔ اگر $AN : NC = 4 : 5$ تب ΔMAN کا رقبہ _____ مربع سمر۔



- (1) 32 (2) 45 (3) 36 (4) 39

88. In ΔABC , if $\angle B = 90^\circ$, BD is altitude on AC and $AB = c$, $BC = a$, $AC = b$, $BD = p$ then

ΔABC میں اگر $\angle B = 90^\circ$ ، AC پر کھینچی گئی ارتفاع BD اور $AB = c$ ، $BC = a$ ، $AC = b$ ، $BD = p$ تب



(1) $\frac{1}{p^2} = \frac{1}{a^2} + \frac{1}{b^2}$

(2) $\frac{1}{p} = \frac{1}{a} + \frac{1}{b}$

(3) $\frac{1}{c^2} = \frac{1}{a^2} + \frac{1}{b^2}$

(4) $\frac{1}{p^2} = \frac{1}{a^2} + \frac{1}{c^2}$

89. If the ratio of the corresponding medians of two similar triangles is 2:3 and the area of the smaller triangle is 48 cm^2 , then find the area of the larger triangle.

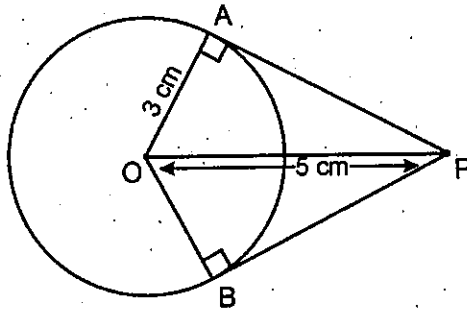
- (1) 108 cm^2 (2) 72 cm^2 (3) 96 cm^2 (4) 144 cm^2

دو مشابہ مثلثات کے متناظر وسطانیوں کی نسبت 2:3 اور چھوٹے مثلث کا رقبہ 48 مربع سمر ہو تو بڑے مثلث کا رقبہ معلوم کیجئے۔

- (1) 108 مربع سمر (2) 72 مربع سمر (3) 96 مربع سمر (4) 144 مربع سمر

90. From a point 'P' which is at a distance of 5 cm from the centre 'O' of a circle of radius 3 cm, the pair of tangents PA and PB drawn to the circle. Then the area of the quadrilateral PAOB is _____ cm^2 .

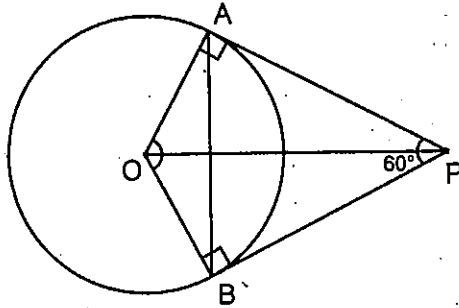
3 سمر نصف قطر والے دائرے کے مرکز 'O' سے 5 سمر دوری پر موجود ایک نقطہ 'P' سے دائرے پر ایک مماس کی جوڑی PA اور PB کھینچے گئے۔ تب چار ضلعی PAOB کا رقبہ _____ مربع سمر



- (1) 12 (2) 20 (3) 15 (4) 25

91. In the figure, PA and PB are tangents of a circle with centre 'O' from a point 'P' and $\angle APB = 60^\circ$. What is the value of $\angle AOB$?

شکل میں PA اور PB مماس نقطہ 'P' سے 'O' مرکز والے دائرے پر کھینچے گئے اور $\angle APB = 60^\circ$ ہو تو $\angle AOB$ کی قدر



- (1) 90° (2) 100° (3) 120° (4) 60°

92. If the sides of a right triangle are x , $3x + 3$ and $3x + 4$ then the value of x is _____

- اگر ایک قائم الزاویہ مثلث کے اضلاع x ، $3x + 3$ اور $3x + 4$ ہوتو 'x' کی قدر _____
- (1) 9 (2) 8 (3) 7 (4) 6

93. Five cubes, each of edge 2 cm, are joined end to end. What is the total surface area of the resulting cuboid in cm^2 ?

- ہر کنارہ 2 سمر والے 5 مکعبوں کو ملایا گیا۔ اس طرح بننے والا نئے مکعب نما کا کل سطح کارقبہ مربع سمر میں معلوم کیجئے۔
- (1) 88 (2) 40 (3) 60 (4) 56

94. A cone of height 24 cm and base radius 6 cm is made up of modelling clay. A child reshapes it in the form of a sphere. Find the radius of the sphere.

- (1) 8 cm (2) 6 cm
(3) 9 cm (4) 12 cm
- چکنی مٹی سے ایک مخروط بنایا گیا جس کی بلندی 24 سمر اور قاعدے کا نصف قطر 6 سمر ہیں۔ ایک بچے نے اسی کو کروی شکل دی تب کروی شکل کا نصف قطر معلوم کیجئے۔

- (1) 8 سمر (2) 6 سمر
(3) 9 سمر (4) 12 سمر

95. All face cards are removed from a deck of cards of 52 and one card is taken randomly from remaining cards. What is the probability of getting a black ace?

52 تاش کے پتوں میں سے تمام منگھ کے پتوں کو ہٹا دیا گیا اور بچے ہوئے پتوں میں سے بلا منصوبہ ایک پتہ نکالا تب وہ پتہ کالا رنگ والا کیسے ہونے کا قیاس معلوم کیجئے۔

- (1) 0 (2) $\frac{1}{26}$ (3) $\frac{1}{40}$ (4) $\frac{1}{20}$

96. The probability of an event 'E' is a number such that _____

- ایک واقعہ 'E' کا قیاس ایک عدد ہے اس طرح _____
- (1) $0 < P(E) < 1$ (2) $0 \leq P(E) \leq 1$
(3) $0 < P(E) \leq 1$ (4) $0 \leq P(E) < 1$

97. If a number 'x' is chosen randomly from the numbers 1, 2, 3, 4 and another number 'y' is selected randomly from the numbers 1, 4, 9, 16. Then match the probabilities of the following.

اعداد 1، 2، 3، 4 میں سے بلا منصوبہ ایک عدد 'x' کو منتخب کیا جاتا ہے، اسی طرح 1، 4، 9، 16 میں سے بلا منصوبہ ایک عدد 'y' کو منتخب کیا گیا۔ مندرجہ ذیل قیاسیات کے جوڑ لگائیے۔

- | | |
|-------------------|-------------------|
| p) $P(xy < 1) =$ | a) $\frac{1}{2}$ |
| q) $P(xy < 4) =$ | b) $\frac{6}{16}$ |
| r) $P(xy < 9) =$ | c) $\frac{3}{16}$ |
| s) $P(xy < 16) =$ | d) 0 |

Now, choose the correct answer.

اب صحیح جواب کا انتخاب کیجئے۔

- | | |
|--|--|
| (1) $p \rightarrow a, q \rightarrow b, r \rightarrow c, s \rightarrow d$ | (2) $p \rightarrow d, q \rightarrow c, r \rightarrow b, s \rightarrow a$ |
| (3) $p \rightarrow a, q \rightarrow b, r \rightarrow d, s \rightarrow c$ | (4) $p \rightarrow c, q \rightarrow d, r \rightarrow a, s \rightarrow b$ |

98. The total surface area of a solid hemisphere is $108\pi \text{ cm}^2$. The volume of the hemisphere is _____ cm^3 .

ایک ٹھوس نصف کرہ کا کل سطح کا رقبہ 108π مربع سمر، اس کا نصف کرہ کا حجم _____ مکعب سمر

- | | | | |
|--------------|------------------|-------------|-------------------|
| (1) 144π | (2) $54\sqrt{6}$ | (3) 72π | (4) $108\sqrt{6}$ |
|--------------|------------------|-------------|-------------------|

99. If the mean of x and $\frac{1}{x}$ is M , then the mean of x^3 and $\frac{1}{x^3} =$

اگر 'x' اور $\frac{1}{x}$ کا اوسط 'M' ہو تب x^3 اور $\frac{1}{x^3}$ کا اوسط

- | | | | |
|-----------|---------------|-------------------|-------------------------|
| (1) M^3 | (2) $M^3 + 3$ | (3) $M(4M^2 - 3)$ | (4) $\frac{M^2 - 3}{2}$ |
|-----------|---------------|-------------------|-------------------------|

100. The mean and median of the data a, b and c are respectively 50 and 35, where $a < b < c$. If $c - a = 55$, then $b - a =$ _____.

a, b اور c کا اوسط اور وسطانیہ بالترتیب 50 اور 35 ہیں جہاں $a < b < c$ اگر $c - a = 55$ ہو تب $b - a =$ _____

- | | | | |
|-------|-------|-------|-------|
| (1) 8 | (2) 7 | (3) 5 | (4) 3 |
|-------|-------|-------|-------|

PART - III : PHYSICAL SCIENCES

101. If A, B, C are under thermal contact then in which of the following condition heat will be transferred from A to both B and C.

- (1) Temperature of A, B are less than C (2) Temperature of A, B are more than C
(3) Temperature of B, C are less than A (4) Temperature of B, C are more than A

اگر A، B اور C حراری تماس میں ہو تو درج ذیل میں سے کس حالت میں حرارت A سے B اور C دونوں میں شامل ہو جائے گی۔

(1) B، A کی تپش C سے کم ہونے پر (2) B، A کی تپش C سے زیادہ ہونے پر

(3) C، B کی تپش A سے کم ہونے پر (4) C، B کی تپش A سے زیادہ ہونے پر

102.

Material	A	B	C	D
Specific heat in cal/g-°C	0.095	0.115	0.21	0.031

From the above table which one of the material has more reluctance towards change in temperature

شے	A	B	C	D
حرارت نوعی cal/g-°C	0.095	0.115	0.21	0.031

مندرجہ بالا جدول سے معلوم ہوتا ہے کہ کس شے کی تپش میں تبدیلی سے تذبذب (Reluctance) کا شکار ہوتا ہے۔

- (1) A (2) B (3) C (4) D

103. Dogs panting on hot days the basic physical phenomena in it is _____.

- (1) Evaporation (2) Condensation (3) Freezing (4) Melting

گرم دنوں میں کتے ہانپتے ہیں اس میں موجود بنیادی قدرتی مظاہرہ _____ ہے۔

- (1) تبخیر (2) تکثیف (3) انجماد (4) پگھلنا

104. 1 calorie is equal to _____ Joules.

1 کیلوری _____ جول کے مساوی ہے۔

- (1) 4.186×10^3 (2) 41.86×10^3 (3) 4.186 (4) 418.6×10^3

105. The heat energy required to change 10 g of ice at -10°C into water vapour at 100°C is _____ (at 1 atmospheric pressure)

- (1) 7250 calories (2) 7250 K calories
(3) 9250 calories (4) 9250 K calories

-10°C پر موجود 10 گرام برف کو 100°C پر آبی بخارات (Water Vapour) میں تبدیل کرنے کے لئے درکار حراری توانائی (Heat Energy) _____ ہوگی۔ (1 کڑہ ہوا کے دباؤ پر)

- (1) 7250 کیلوری (2) 7250 کلو کیلوری
(3) 9250 کیلوری (4) 9250 کلو کیلوری

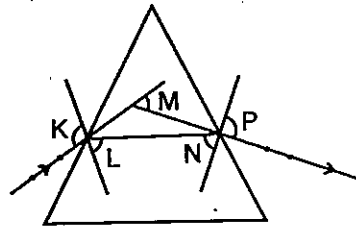
106. The value of latent heat of vaporisation of water is _____.
- (1) 540 calories/gm (2) 540 K calories/gram
(3) 80 calories/gm (4) 80 K calories/gm
- پانی کے بخارات کی مخفی حرارت (Latent heat of vaporisation of water) کی قدر _____ ہے۔
- 540 K calories/gram (2) 540 calories/gm (1)
80 K calories/gm (4) 80 calories/gm (3)

107. The visible colour part of eye is _____.
- (1) cornea (2) iris (3) retina (4) aqueous humor
- آنکھ میں نظر آنے والا رنگین حصہ _____ ہے۔
- (Iris) آئرس (2) (Cornea) قرنئیہ (1)
(Aqueous Humor) رطوبت مائیہ (4) (Retina) ریٹینا (3)

108. Real images are always _____.
- (1) can be traced on screen, erected (2) can't be traced on screen, erected
(3) can be traced on screen, inverted (4) can't be traced on screen, inverted
- حقیقی خیال ہمیشہ _____
- سیدھا ہوتا ہے، پردے پر حاصل کیا جاسکتا ہے (1)
معکوس ہوتا ہے، پردے پر حاصل نہیں کیا جاسکتا (2)
معکوس ہوتا ہے، پردے پر حاصل نہیں کیا جاسکتا (3)
سیدھا ہوتا ہے، پردے پر حاصل نہیں کیا جاسکتا (4)

109. Mirages formed due to _____.
- (1) Dew (2) Fog
(3) Total internal reflection (4) Scattering
- سراب (Mirages) کس وجہ سے تشکیل پاتے ہیں۔
- (Dew) شبنم (1)
(Fog) کھر (2)
کلی داخلی انعکاس (3)
انتشار (Scattering) (4)

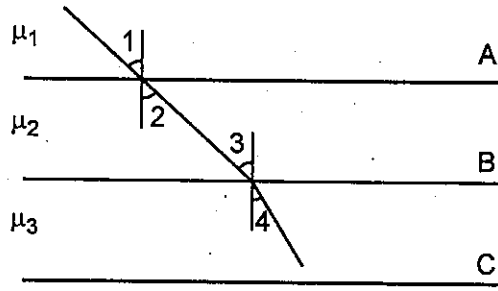
110.



Which letter represents angle of deviation in the above diagram?

- (1) K (2) L and N (3) M (4) P
- مندرجہ بالا خاکے میں کونسا حرف زاویہ انحراف (Angle of deviation) کی نمائندگی کرتا ہے۔
- P (4) M (3) N اور L (2) K (1)

111.



Refractive indices of A, B, C are μ_1, μ_2, μ_3 respectively. $\angle 1 = \angle 2, \angle 3 > \angle 4$, then which of the following relation is correct?

A, B, C کے انعطاف نما بالترتیب μ_1, μ_2, μ_3 ہیں۔ $\angle 1 = \angle 2$ اور $\angle 3 > \angle 4$ ہیں تب مندرجہ ذیل میں سے کونسا رشتہ درست ہے۔

- (1) $\mu_1 = \mu_2, \mu_1 = \mu_3$ (2) $\mu_1 = \mu_2, \mu_2 < \mu_3$
(3) $\mu_1 = \mu_2, \mu_3 < \mu_2$ (4) $\mu_1 = \mu_2, \mu_3 < \mu_1$

112. An object is placed at 20 cm before a biconvex lens having focal length of 10 cm. Then its image formed _____ from the lens.

- (1) at 10 cm (2) between 10 cm and 20 cm
(3) at 20 cm (4) beyond 20 cm

10 سمر ماسکی طول والے دوہرا محدب عدسے کے آگے 20 سمر کے فاصلے پر رکھی گئی شے کا خیال کہا بنے گا
(1) 10 سمر پر (2) 10 سمر اور 20 سمر کے درمیان
(3) 20 سمر پر (4) 20 سمر سے بھی زیادہ فاصلے پر

113. A glass slab of thickness of 't' and having refractive index as ' μ '. If it is kept in the path of light ray. Then the shift (Δx) of ray is _____

't' موٹائی والے اور ' μ ' انعطاف نما رکھنے والے ایک شیشہ کے کندے کو روشنی کی شعاع کے راستے میں رکھا جانے پر شعاع کی تبدل
_____ = (shift) Δx ہوگی۔

- (1) $\mu \left(1 - \frac{1}{t}\right)$ (2) $t \left(1 - \frac{1}{\mu}\right)$ (3) $t(\mu - 1)$ (4) $\mu(t - 1)$

114. The power of a convex lens of focal length 50 cm is _____ D.

50 سمر ماسکی طول والے محدب عدسے کے لئے عدسے کی طاقت (Power of Lens) D _____ ہوگی۔

- (1) 5 (2) 50 (3) 2 (4) $\frac{1}{2}$

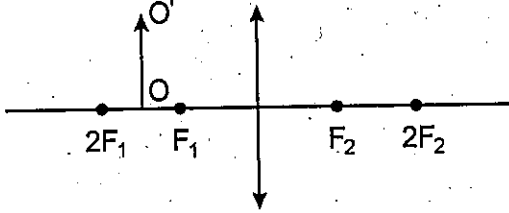
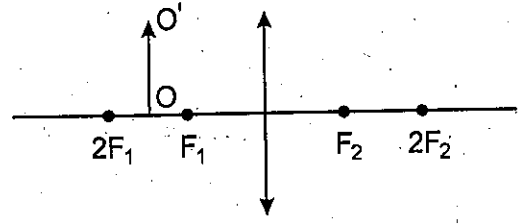
115. Which one of the following will have the choice to be the wave length of violet colour in VIBGVOR?

مندرجہ ذیل میں سے کونسا (Vibgvor) کے نقش (violet) رنگ کے طوولی موج کے مساوی ہوگا انتخاب کریں۔

- (1) 7900Å (2) 6000Å (3) 4800Å (4) 4000Å

116. The image of OO' forms _____.

- (1) At $2F_2$
- (2) At F_2
- (3) Between $F_2, 2F_2$
- (4) Beyond $2F_2$



OO' کا خیال _____ پر حاصل ہوگا۔

- (1) $2F_2$ پر
- (2) F_2 پر
- (3) F_2 اور $2F_2$ کے درمیان
- (4) $2F_2$ سے دور

117. $2\Omega, 3\Omega, 4\Omega$ are connected in series then the resultant resistance is _____.

تین مزاحمتیں جن کی قدریں بالترتیب $2\Omega, 3\Omega, 4\Omega$ ہیں۔ ہم سلسلہ (Series) جوڑی گئی ہیں۔ تب اس کی معادل مزاحمت _____ ہوگی۔

- (1) 1Ω
- (2) 9Ω
- (3) $\frac{12}{13}\Omega$
- (4) $\frac{13}{12}\Omega$

118. S.I. unit of Electric Current (i) is _____.

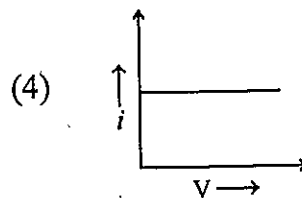
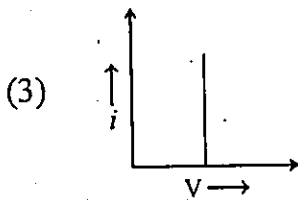
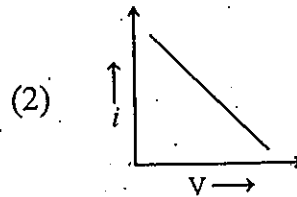
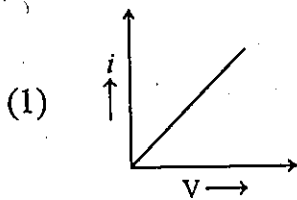
- (1) Ampere
- (2) Ohm
- (3) Volt
- (4) Hertz

برقی رو (Electric Current) (i) کی S.I. اکائی _____ ہے۔

- (1) ایمپیر (Ampere)
- (2) اوم (Ohm)
- (3) وولٹ (Volt)
- (4) ہرٹز (Hertz)

119. Which of following represents ohmics in graphs?

مندرجہ ذیل میں سے کونسا ترسیم (گراف) اوہمک اشیاء (Ohmics) کی نمائندگی کرتا ہے۔



120. The resistance of a conducting wire is R. What will be the resistance if it's length is doubled and area of cross section is halved?

'R' مزاحمت والے کسی موصل کے طول کو دوگنا اور تراش عمودی کے رقبہ کو آدھا کرنے پر اس موصل کی مزاحمت کیا ہوگی۔

- (1) 4R (2) $\frac{1}{4}R$ (3) 2R (4) $\frac{1}{2}R$

121. Electric Power (P) = _____

= P (Electric Power) برقی طاقت

- (1) $\frac{V^2 I}{R}$ (2) $\frac{V^2 I^2}{R}$ (3) $\frac{I^2 R}{V}$ (4) $I^2 R$

122. Tesla means _____.

Tesla کے معنی

- (1) $\frac{Wb}{m^2}$ (2) Wb-m² (3) $\frac{Wb}{m}$ (4) Wb-m

123. Which of the following is not an application of Faraday's law.

- (1) Incandescent bulb (2) ATM card
(3) Head in Tape recorder (4) Induction stove

مندرجہ ذیل میں سے کونسا فیراڈے (Faraday's) کے قانون کا اطلاق نہیں ہے۔

- (1) ٹاپڈیپٹ بلب (2) اے ٹی ایم کارڈ
(3) ٹیپ ریکارڈرس ہیڈ میں (4) انڈکشن چولہا

124. Magnetic field force on a charge, moving parallel to the magnetic field ($\theta = 0$)

- (1) 1 (2) 0 (3) -1 (4) Infinite

مقناطیسی میدان کے متوازی (Parallel) ($\theta = 0$) حرکت کرنے والے برقی بار پر مقناطیسی میدان کا اثر ہوگا۔

- (1) 1 (2) 0 (3) -1 (4) لامحدود

125. The enlarged form of rms (In Electromagnetism) _____

برقی مقناطیسیات (Electromagnetism) میں rms کی توسیع شکل ہے۔

- (1) right mid square (2) root mid square
(3) right mean square (4) root mean square

126. Read the following and choose correct option. Select common properties for both Acid and base from the following.

- a) Reaction with metals produce Hydrogen gas.
b) Reaction with metal Carbonates produce Carbon dioxide gas.
c) Conduct electricity in aqueous state.
d) Colour will change with phenolphthalein indicator.
(1) only (c) is correct (2) (a), (b) are correct
(3) (a), (c) are correct (4) (a), (b), (c), (d) are correct

درج ذیل کو پڑھیں اور صحیح جواب کا انتخاب کریں۔ درج ذیل میں سے ترشہ اور اساس دونوں کے مشترکہ خصوصیات کو منتخب کریں۔

- (a) دھاتوں کے ساتھ تعامل سے ہائیڈروجن گیس کو پیدا کرنا۔
(b) دھاتی کاربونیٹ کے ساتھ تعامل سے کاربن ڈائی آکسائیڈ گیس کو پیدا کرنا
(c) آبی حالت میں برقی موصل
(d) فیناٹھلین (Phenolphthalein) مظہر کے رنگ کا تبدیل کرنا
(1) صرف (c) صحیح ہے
(2) (a)، (b) دونوں صحیح ہیں
(3) (a)، (c) دونوں صحیح ہیں
(4) (a)، (b)، (c)، (d) دونوں صحیح ہیں

127. Which of the following will produce acidic salt on neutralization with H_2SO_4 .

مندرجہ ذیل میں سے کون H_2SO_4 سے تعادلی تعامل (Neutralization) سے ترشی نمک پیدا کرے گا۔

- (1) HCl (2) CH_3COOH (3) HNO_3 (4) $Mg(OH)_2$

128. On adding few drops of universal indicator to three unknown colourless solutions (X), (Y) and (Z) taken separately in three test tubes. Tulasi observed that the changes in colour as green in (X), red in (Y) and blue in (Z). The decreasing order of pH of the taken solutions is _____.

تین نامعلوم شدہ بے رنگ محلولوں X، Y اور Z میں آفاقی مظہر (Universal Indicator) کے چند قطرے شامل کرنے پر تلسی (Tulasi) نے مشاہدہ کیا کہ X میں سبز، Y میں سرخ اور Z نیلے رنگ میں تبدیل ہو گئے۔ دیئے گئے محلولوں کی pH کی نزولی ترتیب دیں۔

- (1) $X > Y > Z$ (2) $Y > Z > X$ (3) $Y > X > Z$ (4) $Z > X > Y$

129. Identify the incorrect statement from the following.

- (1) Universal indicator is used to know the strength of acid or base.
(2) As the pH value increases from 7 to 14, concentration of $[H^+]$ ions in the solution increases.
(3) Higher the hydronium ion concentration lower the pH value.
(4) pH value of a solution is less than 7, it is acidic in nature.

درج ذیل میں سے غلط بیان کی نشاندہی کریں۔

- (1) آفاقی مظہر (Universal Indicator) کو ترشے (یا) اساس کی طاقت کو جاننے کے لئے استعمال کیا جاتا ہے۔
(2) pH کی قدر میں 7 تا 14 میں اضافہ ہونے پر H^+ رواں کے ارتکاز میں بھی اضافہ ہوگا۔
(3) ہائیڈرونیئم (H^+) رواں کے ارتکاز میں اضافہ سے pH کی قدر میں کمی ہوگی۔
(4) کسی محلول کی pH کی قدر 7 سے کم ہو تو وہ محلول ترشی ہوتا ہے۔

130. Find the wave length of a photon in nano meters with energy of 3×10^{-12} erg.
($h = 6.6256 \times 10^{-27}$ erg-sec; $C = 3 \times 10^8$ m/s).

فوٹان (photon) کی طولی موج کی قدر کو nano meters میں معلوم کیجئے۔ جس کی توانائی 3×10^{-12} erg۔

($h = 6.6256 \times 10^{-27}$ erg-sec; $C = 3 \times 10^8$ m/s).

- (1) 66.2 (2) 662 (3) 1324 (4) 6.62

131. Choose the correct set of quantum numbers of the differentiating electron of a neutral calcium atom.

ایک تعدیلی کیٹیم جوہر کے گرتی الیکٹران (Differentiating Electron) کیلئے چاروں مقادیری اعداد کا صحیح سیٹ کا انتخاب کریں۔

- (1) $n = 4, l = 0, m_L = 1, m_s = +\frac{1}{2}$ (2) $n = 4, l = 0, m_L = 0, m_s = -\frac{1}{2}$

- (3) $n = 4, l = 0, m_L = 0, m_s = 0$ (4) $n = 4, l = 1, m_L = 0, m_s = -\frac{1}{2}$

132. Which of the following pair is not containing equal number of electrons?

مندرجہ ذیل میں سے کس جوڑے میں الیکٹرانس کی تعداد مساوی نہیں ہے۔

- (1) N^{2-}, O^{2-} (2) Na^+, C^{4-} (3) F^-, Al^{3+} (4) Mg^{2+}, O^{2-}

133. The electronic configuration of an ion A^{2+} is 2, 8, 14. If its mass number is 56, the number of neutrons in its nucleus are _____.

A^{2+} روان کی الیکٹراننی تشکیل 2، 8، 14 ہے اور اس کا کمیتی عدد 56 ہے، ہو تو اس کے مرکزے میں موجود نیوٹران کی تعداد _____

- (1) 32 (2) 42 (3) 30 (4) 56

134. Three elements P, Q and R have atomic numbers $Z, Z - 1$ and $Z + 2$ respectively. P is the noble gas. The formula of compound formed between Q and R will be _____.

تین عناصر P، Q اور R کے جوہری عدد بالترتیب Z، Z-1 اور Z+2 ہیں۔ P ایک کیاب (نوبل) گیس ہے۔ Q اور R کے تعامل سے حاصل ہونے والے مرکب کا ضابطہ (فارمولہ) _____ ہوگا۔

- (1) QR_2 (2) RQ_2 (3) R_2Q_3 (4) QR_3

135. Which of the following metal was not placed in the eighth group of the modified Mendeleev's periodic table?

- (1) Sodium (2) Nickel (3) Platinum (4) Iron

مندرجہ ذیل میں سے کس دھات کو مینڈلیف کی تبدیل شدہ دوری جدول کے آٹھویں گروپ میں نہیں رکھا گیا۔

- (1) سوڈیم (2) نکل (3) پلاٹینم (4) لوہا

136. How many of the following statements are not true regarding long form of periodic table?

- Phosphorus is the only non metal in 15th group.
- Elements in I_A group are metallic in nature.
- The metal present in Chalcogen family is Tellurium.
- Halogen group is the only group in the periodic table (long form) without any metal present in it.

طویل تر دوری جدول (Long form of Periodic Table) سے مطلق درج ذیل میں سے کتنے بیانات درست نہیں ہیں۔

- 15 ویں گروپ میں واحد غیر دھات فاسفورس ہے۔
 - I_A گروپ کے عناصر کی نوعیت دھاتی ہے۔
 - چالکوجن (Chalcogen) خاندان میں موجود دھات Tellurium ہے۔
 - ہالوجن (Halogen) گروپ طویل تر دوری جدول کا وہ واحد گروپ ہے جس میں کوئی دھات موجود نہیں ہے۔
- (1) 1 (2) 2 (3) 3 (4) 4

137. The elements A, B, C, D and E having atomic numbers 9, 10, 11, 12 and 17 respectively, then the increasing order of atomic radii is _____.

عناصر A، B، C، D اور E کے جوہری عدد بالترتیب 9، 10، 11، 12 اور 17 ہیں تو جوہری نصف قطر ان (Atomic radii) کی بڑھتی ہوئی ترتیب

- $B < A < E < D < C$
- $B < A < E < C < D$
- $A < B < C < E < D$
- $B < A < C < E < D$

138. Number of elements present in the second period of modern periodic table _____.

- جدید دوری جدول کے دوسرے (2nd) پیریڈ میں موجود عناصر کی تعداد
- 2
 - 8
 - 18
 - 32

139. Formula of a Metallic oxide is M₂O₃. The formula of its phosphate will be _____.

کسی دھات کا دھاتی آکسائیڈ کا ضابطہ M₂O₃ ہے۔ اس دھات کے لئے فاسفیٹ کا ضابطہ ہوگا۔

- M₂PO₄
- MPO₄
- M₂(PO₄)₃
- M₃(PO₄)₂

140. What is the covalency of Oxygen atom in water molecule?

پانی کے سالمہ میں آکسیجن جوہر کی گرفت (Covalency) کیا ہوگی

- 2
- 4
- 6
- 8

141. Which of the following is an electron deficient molecule?

مندرجہ ذیل میں سے کونسا الیکٹرانس کی کمی والا سالمہ (Electron deficient molecule) ہے۔

- NH₃
- BF₃
- C₂H₆
- H₂O

142. The electronic configurations of four elements A, B, C and D respectively $1s^2 2s^2 2p^6 3s^2 3p^5$, $1s^2 2s^2 2p^6 3s^2$, $1s^2 2s^2 2p^6 3s^1$ and $1s^2 2s^2 2p^4$. The formulae of ionic compounds formed between these elements are

چار عناصر A، B، C اور D کی الیکٹرانئی تشکیل بالترتیب $1s^2 2s^2 2p^6 3s^2 3p^5$ ، $1s^2 2s^2 2p^6 3s^2$ ، $1s^2 2s^2 2p^6 3s^1$ اور $1s^2 2s^2 2p^4$ ہے۔ ان کے درمیان بننے والے روانی (ionic) مرکبات کے ضابطے یہ ہیں۔

- | | |
|--|--|
| (1) CA, AB ₂ , C ₂ D, BD | (2) CA ₂ , BA ₂ , CD ₂ , BD |
| (3) C ₂ A, BA ₂ , C ₂ D, BD | (4) CA, BA ₂ , C ₂ D, BD |

143. Match the following.

Ore	Metal
A) Pyrolusite	i) Magnesium
B) Magnetite	ii) Sodium
C) Lime stone	iii) Iron
D) Haematite	iv) Calcium
	v) Manganese

مندرجہ ذیل جوڑ ملائیے۔

دھات (Metal)

کچھ دھات (Ore)

- | | |
|--------------|----------------|
| میگنیشیم (i) | پائرولسائٹ (A) |
| سوڈیم (ii) | میگنٹائٹ (B) |
| آئرن (iii) | لائم اسٹون (C) |
| کیلشیم (iv) | ہیماٹائٹ (D) |
| مینگنیوز (v) | |
- (1) A-(v), B-(iii), C-(iv), D-(iii)
 (2) A-(ii), B-(i), C-(iv), D-(iii)
 (3) A-(v), B-(i), C-(iv), D-(iii)
 (4) A-(v), B-(i), C-(ii), D-(iii)

144. Which of the following metal displaces Hydrogen from Cold Water?

- | | |
|-------------|---------------|
| (1) Zinc | (2) Mercury |
| (3) Calcium | (4) Aluminium |

مندرجہ ذیل میں سے کونسی دھات ہائیڈروجن کو ٹھنڈے پانی سے ہٹاتی ہے۔

- | | |
|-------------|------------|
| پارہ (2) | زنک (1) |
| المونیم (4) | کیلشیم (3) |

145. Arrange the following metals in the increasing order of their reactivity.

Zinc, Mercury, Gold, Iron, Calcium, Sodium

- (1) Gold < Mercury < Iron < Zinc < Calcium < Sodium
- (2) Gold < Mercury < Iron < Calcium < Zinc < Sodium
- (3) Sodium < Calcium < Iron < Zinc < Mercury < Gold
- (4) Gold < Mercury < Zinc < Iron < Calcium < Sodium

درج ذیل دھاتوں کو ان کی عاملیت (Reactivity) کے بڑھتے ہوئے ترتیب میں ترتیب دیجئے۔

- زنک، مرکوری، گولڈ، آئرن، کیلشیم، سوڈیم
- (1) گولڈ > مرکوری > آئرن > زنک > کیلشیم > سوڈیم
 - (2) گولڈ > مرکوری > آئرن > کیلشیم > زنک > سوڈیم
 - (3) سوڈیم > کیلشیم > آئرن > زنک > مرکوری > گولڈ
 - (4) گولڈ > مرکوری > زنک > آئرن > کیلشیم > سوڈیم

146. Choose the correct matching from the following.

- | | |
|---|----------------------------|
| i) $\text{CH}_4 + \text{Cl}_2 \xrightarrow{\text{Sunlight}} \text{CH}_3\text{Cl} + \text{HCl}$ | a) Combustion reaction |
| ii) $\text{CH}_3\text{COOH} + \text{C}_2\text{H}_5\text{OH} \xrightarrow{\text{con. H}_2\text{SO}_4} \text{CH}_3\text{COOC}_2\text{H}_5 + \text{H}_2\text{O}$ | b) Substitution reaction |
| iii) $\text{C}_2\text{H}_5\text{OH} + 3\text{O}_2 \longrightarrow \text{CO}_2 + 3\text{H}_2\text{O} + \text{Energy}$ | c) Fermentation |
| iv) $\text{C}_6\text{H}_{12}\text{O}_6 \xrightarrow[\text{Enzymes}]{\text{Yeast}} 2\text{C}_2\text{H}_5\text{OH} + 2\text{CO}_2$ | d) Esterification reaction |

مندرجہ ذیل میں سے درست مماثلت کا انتخاب کریں۔

- | | |
|-----------------------|--|
| (a) احتراق تعامل | (i) $\text{CH}_4 + \text{Cl}_2 \xrightarrow{\text{Sunlight}} \text{CH}_3\text{Cl} + \text{HCl}$ |
| (b) عمل ہٹاؤ تعامل | (ii) $\text{CH}_3\text{COOH} + \text{C}_2\text{H}_5\text{OH} \xrightarrow{\text{con. H}_2\text{SO}_4} \text{CH}_3\text{COOC}_2\text{H}_5 + \text{H}_2\text{O}$ |
| (c) عمل تخمیر تعامل | (iii) $\text{C}_2\text{H}_5\text{OH} + 3\text{O}_2 \longrightarrow \text{CO}_2 + 3\text{H}_2\text{O} + \text{Energy}$ |
| (d) ایسر فیکیشن تعامل | (iv) $\text{C}_6\text{H}_{12}\text{O}_6 \xrightarrow[\text{Enzymes}]{\text{Yeast}} 2\text{C}_2\text{H}_5\text{OH} + 2\text{CO}_2$ |
- (1) (i)-b, (ii)-c, (iii)-a, (iv)-d
 - (2) (i)-a, (ii)-d, (iii)-c, (iv)-b
 - (3) (i)-b, (ii)-d, (iii)-a, (iv)-c
 - (4) (i)-b, (ii)-d, (iii)-c, (iv)-a

147. Which of the following is not an amorphous allotropic form of carbon?

- (1) Graphite
 - (2) Coal
 - (3) Lamp black
 - (4) Sugar Charcoal
- مندرجہ ذیل میں سے کوئی کاربن کی اعلیٰ بہروپی شکل (Amorphous Allotropic) نہیں ہے۔
- (1) Graphite
 - (2) Coal
 - (3) Lamp black
 - (4) Sugar Charcoal

148. Which of the following chemical reaction does not take place inside the blast furnace?

- (1) $\text{ZnS} + 3\text{O}_2 \longrightarrow 2\text{ZnO} + 2\text{SO}_2$
 - (2) $\text{Fe}_2\text{O}_3 + 3\text{CO} \longrightarrow 2\text{Fe} + 3\text{CO}_2$
 - (3) $\text{CaCO}_3 \longrightarrow \text{CaO} + \text{CO}_2$
 - (4) $\text{CaO} + \text{SiO}_2 \longrightarrow \text{CaSiO}_3$
- مندرجہ ذیل میں سے کونسا کیمیائی تعامل جھکڑ بھٹی (Blast Furnace) میں واقع نہیں ہوتا ہے۔

149. A compound 'X' formed by the reaction of alkaline $KMnO_4$ with the compound 'Y' compound 'X' also react with 'Y' in presence of con. H_2SO_4 to form a sweet smelling compound 'Z'. Then what are 'X', 'Y', 'Z' respectively?

- (1) Ethanoic acid, Ethanal, Ethylacetate
- (2) Ethanoic acid, Ethanol, Ethene
- (3) Ethanoic acid, Ethanol, Ethylethanoate
- (4) Ethanoic acid, Ethene, Ethylethanoate

ایک مرکب 'X' اساسی $KMnO_4$ سے تعامل کر کے مرکب 'Y' بناتا ہے۔ مرکب 'X' ہا کایا H_2SO_4 کی موجودگی میں مرکب 'Y' سے تعامل کر کے میٹھی بو والی (Sweet Smelling) شے مرکب 'Z' بناتا ہے۔ تو پھر 'X'، 'Y'، 'Z' بالترتیب کیا ہیں۔

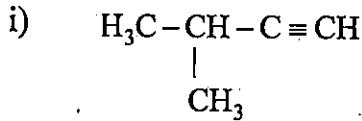
(1) ایتھانوائک ایسڈ، ایتھانل، ایتھائل ایسیٹ

(2) ایتھانوائک ایسڈ، ایتھانل، ایتھین

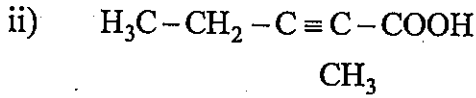
(3) ایتھانوائک ایسڈ، ایتھانول، ایتھائل تھانوائٹ

(4) ایتھانوائک ایسڈ، ایتھین، ایتھائل تھانوائٹ

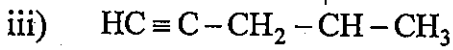
150. Choose the correct matching.



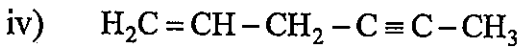
a) Pent-2-yne-1-oic acid



b) 4-Methyl Pent-1-yne



c) Hex-5-ene-2-yne



d) 3-Methyl but-1-yne

درست جوڑ کا انتخاب کریں۔

پنٹ-2-یان-1-او ایک ایسڈ

(a) $H_3C-CH-C \equiv CH$ (i)
|
 CH_3

4- میتھائل پنٹ-1-یان

(b) $H_3C-CH_2-C \equiv C-COOH$ (ii)
|
 CH_3

ہیکس-5-این-2-یان

(c) $HC \equiv C-CH_2-CH-CH_3$ (iii)
|
 CH_3

3- میتھائل بیوٹ-1-یان

(d) $H_2C=CH-CH_2-C \equiv C-CH_3$ (iv)

(1) (i)-d, (ii)-a, (iii)-b, (iv)-c

(2) (i)-d, (ii)-b, (iii)-a, (iv)-c

(3) (i)-d, (ii)-a, (iii)-c, (iv)-b

(4) (i)-c, (ii)-a, (iii)-b, (iv)-d



SPACE FOR ROUGH WORK

SEAL
SEAL
SEAL